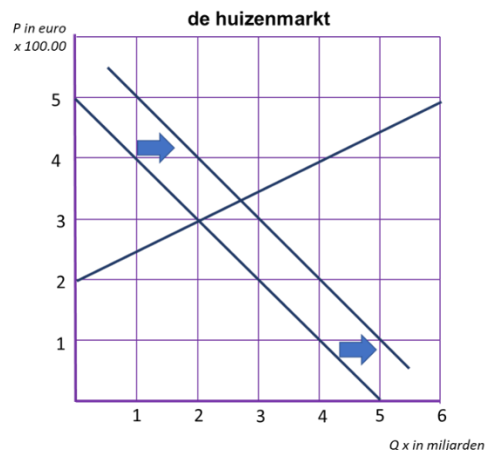
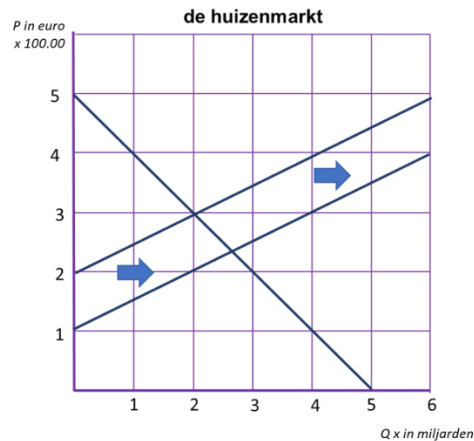
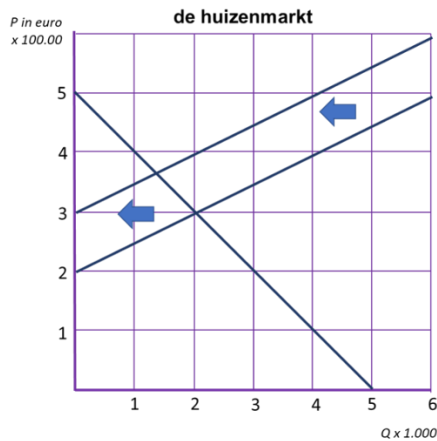


Opgave 1. Beleggen in huizen 8

In de periode 2003 - 2007 (2002 = 100) groeide de inflatie, zoals gemeten door het CBS (waarin de prijzen van koopwoningen niet zijn opgenomen), met 7,3%, terwijl de prijzen van de koopwoningen in diezelfde periode met 22,3% stegen. In de periode 2015 tot en met 2019 (2014 = 100) stegen de prijzen van koopwoningen met 5,1% terwijl de gewogen inflatie, gemeten door het CBS, steeg met 35,5%.



1. Leg uit hoe de huizenmarkt de vermogensmarkt beïnvloedt.
2. Leg uit dat in de periode 2015 - 2019 vooral de situatie op de vermogensmarkt de situatie op de huizenmarkt beïnvloedde.
3. Noem twee andere oorzaken die de snelle stijging van de huizenprijzen in de periode 2015 - 2019 kunnen verklaren.
4. Welke grafiek is de beste weergave van de verandering op de huizenmarkt tussen 2015 en 2019?
5. Bereken hoeveel procent sneller de reële huizenprijzen in de periode 2015 - 2019 groeide dan in de periode 2003 - 2007.